

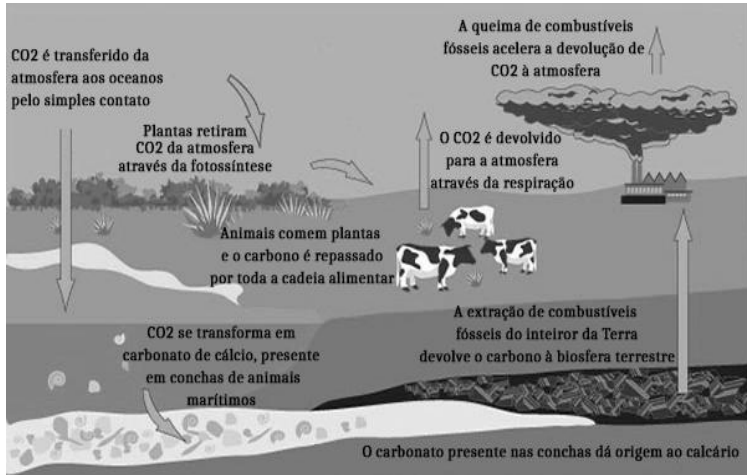
DISCIPLINA: BIOLOGIA

PROFESSOR (A): JULIANA MARQUES

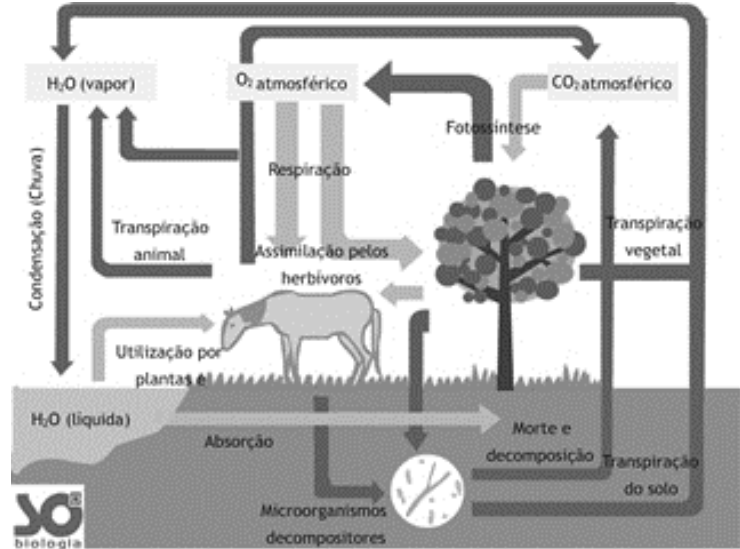
NOME: _____ **TURMA:** _____

CICLOS BIOGEOQUÍMICOS

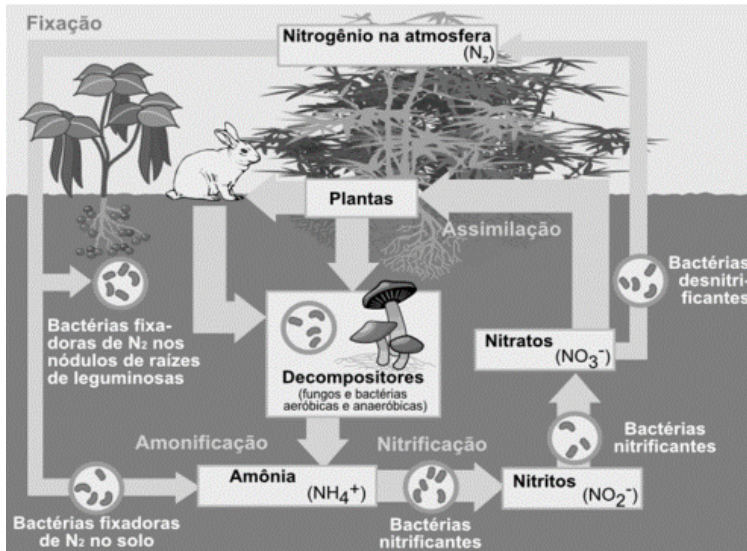
- CARBONO



- OXIGÊNIO



- NITROGÊNIO



EXERCÍCIOS

01. Uma grande virada na moderna história da agricultura ocorreu depois da Segunda Guerra Mundial. Após a guerra, os governos haviam se deparado com um enorme excedente de nitrato de amônio, ingrediente usado na fabricação de explosivos. A partir daí as fábricas de munição foram adaptadas para começar a produzir fertilizantes tendo como componente principal os nitratos.

No ciclo natural do nitrogênio, o equivalente ao principal componente desses fertilizantes industriais é produzido na etapa de:

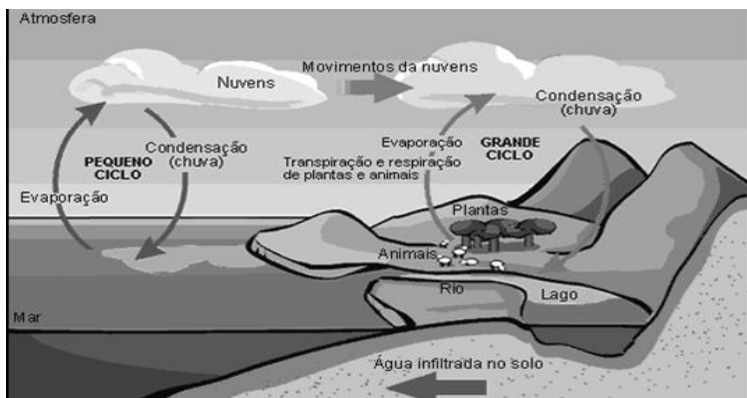
- a) nitratação
- b) nitrosação
- c) amonificação
- d) desnitrificação
- e) fixação biológica do N₂

02. A rotação de culturas, juntamente com a cobertura permanente e o mínimo revolvimento do solo, compõem os princípios básicos do sistema de plantio direto. O aumento da diversidade biológica do solo contribui para a estabilidade da produção agrícola por causa de diversos fatores, entre eles o processo de fixação biológica de nitrogênio, realizado por bactérias.

Nesse processo biológico, ocorre a transformação de:

- a) N₂ em NH₃.
- b) NO₃⁻ em N₂.
- c) NH₃ em NH₄⁺.
- d) NO₂⁻ em NO₃⁻.
- e) NH₄⁺ em NO₂⁻.

-ÁGUA



03. Grandes reservatórios de óleo leve de melhor qualidade e que produz petróleo mais fino foram descobertos no litoral brasileiro numa camada denominada pré-sal, formada há 150 milhões de anos.

A utilização desse recurso energético acarreta para o ambiente um desequilíbrio no ciclo do:

- a) nitrogênio, devido à nitrificação ambiental transformando amônia em nitrito.
- b) nitrogênio, devido ao aumento dos compostos nitrogenados no ambiente terrestre.
- c) carbono, devido ao aumento dos carbonatos dissolvidos no ambiente marinho.
- d) carbono, devido à liberação das cadeias carbônicas aprisionadas abaixo dos sedimentos.
- e) fósforo, devido à liberação dos fosfatos acumulados no ambiente marinho.

04. Os oceanos absorvem aproximadamente um terço das emissões de CO₂ procedentes de atividades humanas, como a queima de combustíveis fósseis e as queimadas. O CO₂ combina-se com as águas dos oceanos, provocando uma alteração importante em suas propriedades. Pesquisas com vários organismos marinhos revelam que essa alteração nos oceanos afeta uma série de processos biológicos necessários para o desenvolvimento e a sobrevivência de várias espécies da vida marinha. A alteração a que se refere o texto diz respeito ao aumento:

- a) da acidez das águas dos oceanos.
- b) do estoque de pescado nos oceanos.
- c) da temperatura média dos oceanos.
- d) do nível das águas dos oceanos.
- e) da salinização das águas dos oceanos.

05. Os seres vivos mantêm constantes trocas de matéria com o ambiente mediante processos conhecidos como ciclos biogeoquímicos. O esquema representa um dos ciclos que ocorrem nos ecossistemas.



O esquema apresentado corresponde ao ciclo biogeoquímico do(a)

- a) água. b) fósforo. c) enxofre. d) carbono.
- e) nitrogênio.

06. O despejo de dejetos de esgotos domésticos e industriais vem causando sérios problemas aos rios brasileiros. Esses poluentes são ricos em substâncias que contribuem para a eutrofização de ecossistemas, que é um enriquecimento da água por nutrientes, o que provoca um grande crescimento bacteriano e, por fim, pode promover escassez de oxigênio.

Uma maneira de evitar a diminuição da concentração de oxigênio no ambiente é:

- a) Aquecer as águas dos rios para aumentar a velocidade de decomposição dos dejetos.
- b) Retirar do esgoto os materiais ricos em nutrientes para diminuir a sua concentração nos rios.
- c) Adicionar bactérias anaeróbicas às águas dos rios para que elas sobrevivam mesmo sem o oxigênio.
- d) Substituir produtos não degradáveis por biodegradáveis para que as bactérias possam utilizar os nutrientes.
- e) Aumentar a solubilidade dos dejetos no esgoto para que os nutrientes fiquem mais acessíveis às bactérias.

GABARITO:

- 1) A
- 2) A
- 3) D
- 4) A
- 5) D
- 6) B